







## Zadania

W górnym polu wpisz liczbę o 25% większą, a w dolnym – o 10% mniejszą od podanej liczby.

<div>+25%</div>  <div>-10%</div> 	<div></div>  <div>40 główek kapusty</div> <div></div>	<div></div>  <div>24 szt. kredek</div> <div></div>	<div></div>  <div>200 szt. monet</div> <div></div>	<div></div>  <div>60 ziaren fasoli</div> <div></div>
---	--	--	---	---